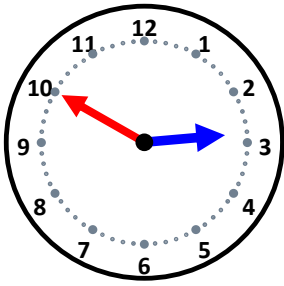


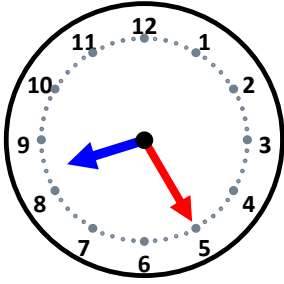
時こくと時間

なまえ _____



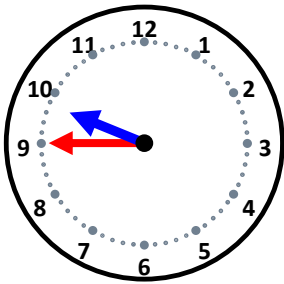
45分前の時こくは何時何分ですか。

30分前の時こくは何時何分ですか。



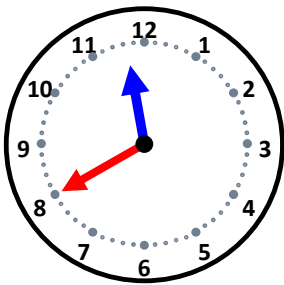
25分前の時こくは何時何分ですか。

20分前の時こくは何時何分ですか。



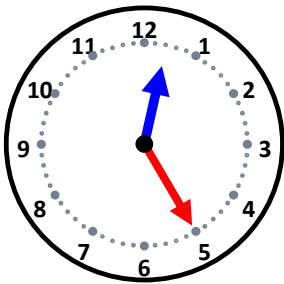
40分前の時こくは何時何分ですか。

30分前の時こくは何時何分ですか。



20分前の時こくは何時何分ですか。

40分前の時こくは何時何分ですか。



10分前の時こくは何時何分ですか。

25分前の時こくは何時何分ですか。