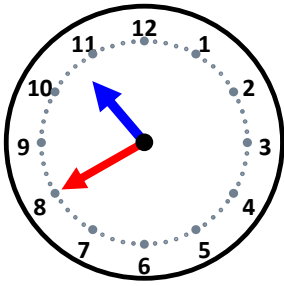


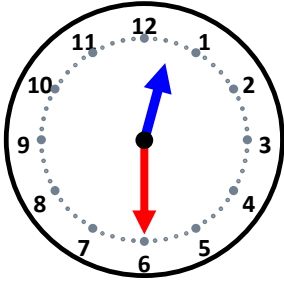
時こくと時間

なまえ _____



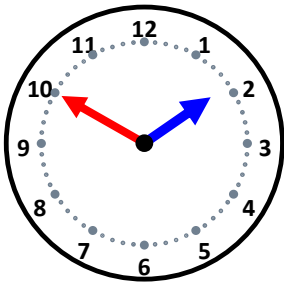
5分前の時こくは何時何分ですか。

20分前の時こくは何時何分ですか。



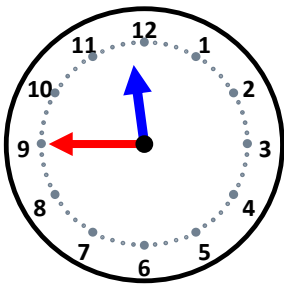
20分前の時こくは何時何分ですか。

25分前の時こくは何時何分ですか。



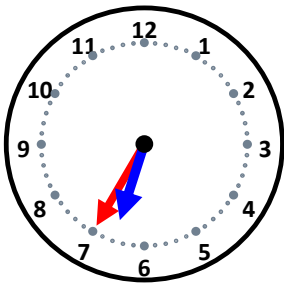
5分前の時こくは何時何分ですか。

20分前の時こくは何時何分ですか。



25分前の時こくは何時何分ですか。

40分前の時こくは何時何分ですか。



10分前の時こくは何時何分ですか。

25分前の時こくは何時何分ですか。