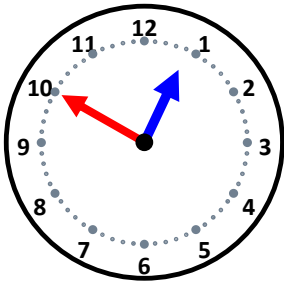


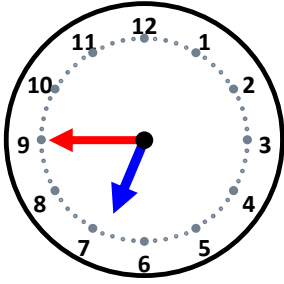
時こくと時間

なまえ _____



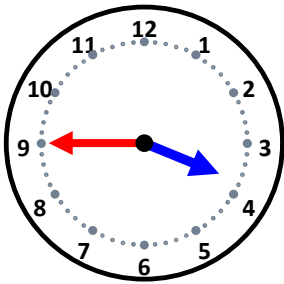
20分前の時こくは何時何分ですか。

25分前の時こくは何時何分ですか。



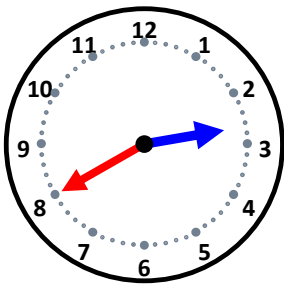
25分前の時こくは何時何分ですか。

40分前の時こくは何時何分ですか。



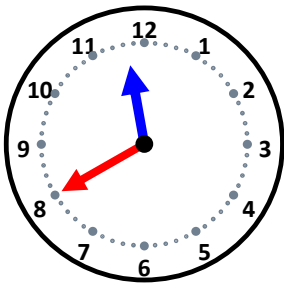
20分前の時こくは何時何分ですか。

15分前の時こくは何時何分ですか。



25分前の時こくは何時何分ですか。

10分前の時こくは何時何分ですか。



5分前の時こくは何時何分ですか。

15分前の時こくは何時何分ですか。