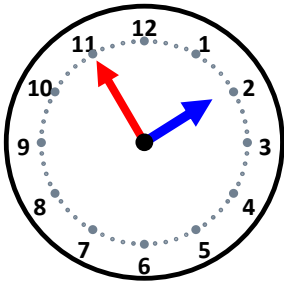


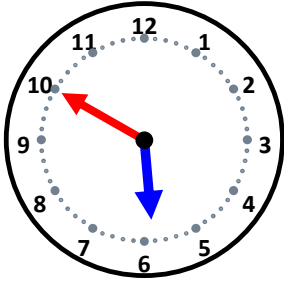
時こくと時間

なまえ _____



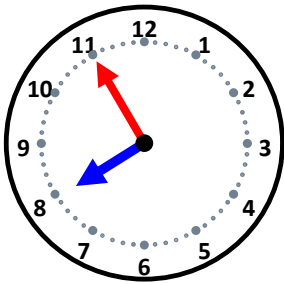
40分後の時こくは何時何分ですか。

5分後の時こくは何時何分ですか。



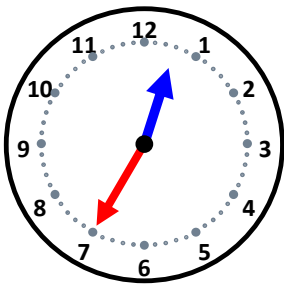
25分後の時こくは何時何分ですか。

15分後の時こくは何時何分ですか。



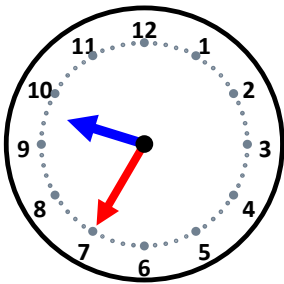
10分後の時こくは何時何分ですか。

5分後の時こくは何時何分ですか。



30分後の時こくは何時何分ですか。

40分後の時こくは何時何分ですか。



35分後の時こくは何時何分ですか。

55分後の時こくは何時何分ですか。