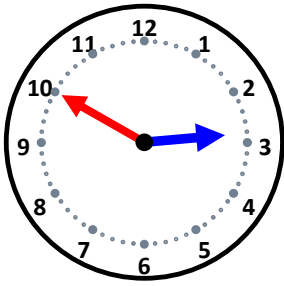


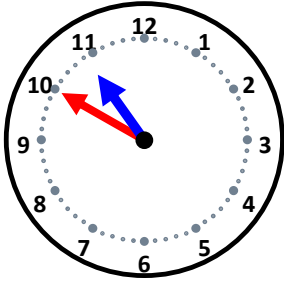
時こくと時間

なまえ _____



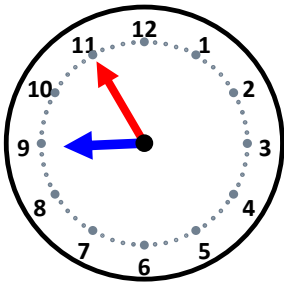
55分後の時こくは何時何分ですか。

10分後の時こくは何時何分ですか。



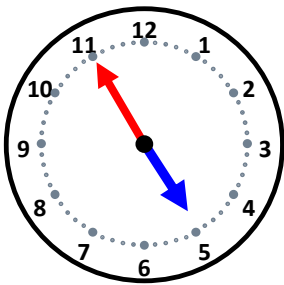
45分後の時こくは何時何分ですか。

30分後の時こくは何時何分ですか。



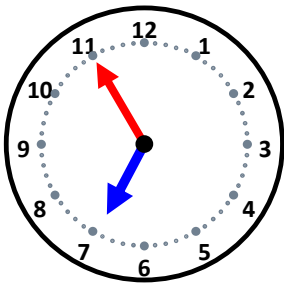
55分後の時こくは何時何分ですか。

5分後の時こくは何時何分ですか。



40分後の時こくは何時何分ですか。

5分後の時こくは何時何分ですか。



5分後の時こくは何時何分ですか。

20分後の時こくは何時何分ですか。