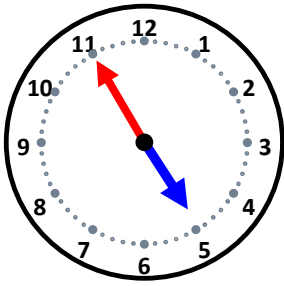


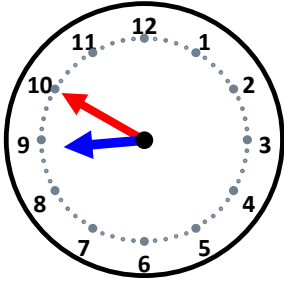
時こくと時間

なまえ _____



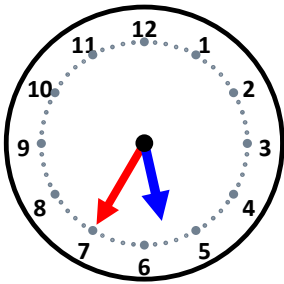
5分後の時こくは何時何分ですか。

15分後の時こくは何時何分ですか。



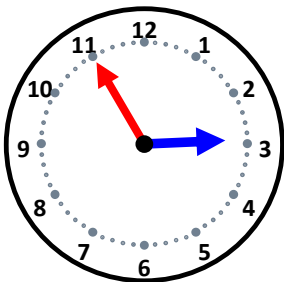
30分後の時こくは何時何分ですか。

10分後の時こくは何時何分ですか。



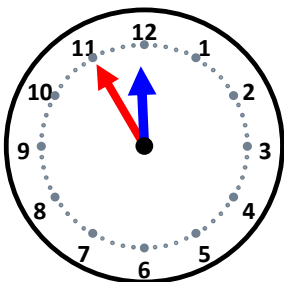
35分後の時こくは何時何分ですか。

40分後の時こくは何時何分ですか。



5分後の時こくは何時何分ですか。

15分後の時こくは何時何分ですか。



5分後の時こくは何時何分ですか。

55分後の時こくは何時何分ですか。