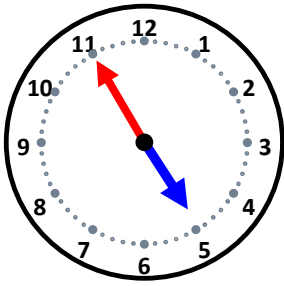


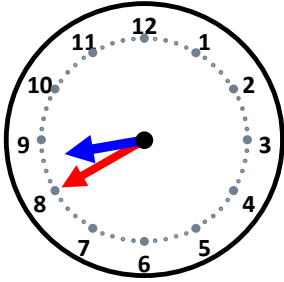
時こくと時間

なまえ _____



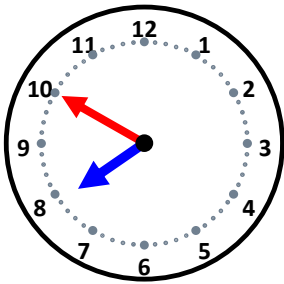
10分後の時こくは何時何分ですか。

25分後の時こくは何時何分ですか。



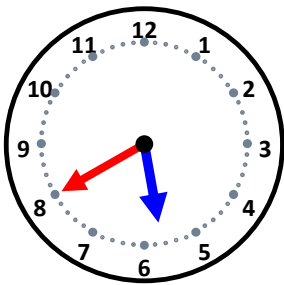
40分後の時こくは何時何分ですか。

50分後の時こくは何時何分ですか。



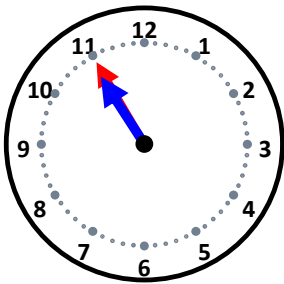
10分後の時こくは何時何分ですか。

45分後の時こくは何時何分ですか。



20分後の時こくは何時何分ですか。

40分後の時こくは何時何分ですか。



15分後の時こくは何時何分ですか。

5分後の時こくは何時何分ですか。