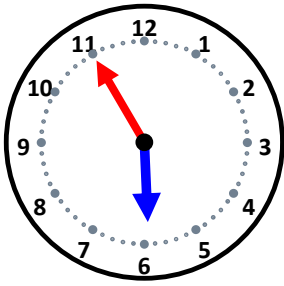


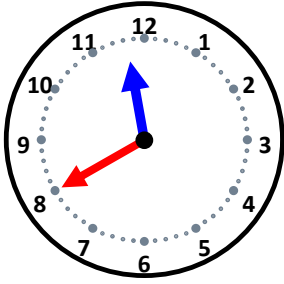
時こくと時間

なまえ _____



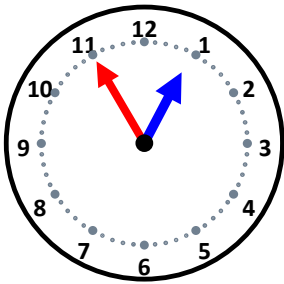
10分後の時こくは何時何分ですか。

55分後の時こくは何時何分ですか。



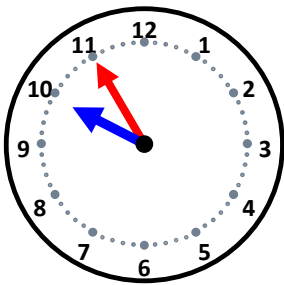
50分後の時こくは何時何分ですか。

20分後の時こくは何時何分ですか。



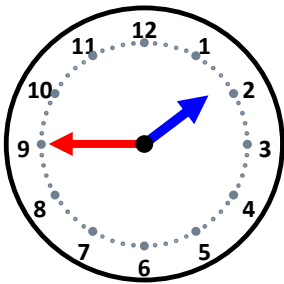
30分後の時こくは何時何分ですか。

40分後の時こくは何時何分ですか。



45分後の時こくは何時何分ですか。

5分後の時こくは何時何分ですか。



55分後の時こくは何時何分ですか。

40分後の時こくは何時何分ですか。