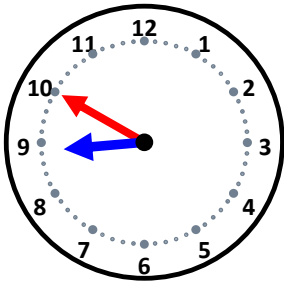


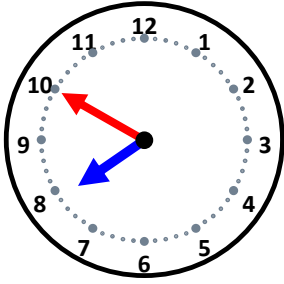
時こくと時間

なまえ _____



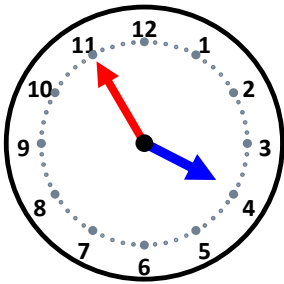
25分後の時こくは何時何分ですか。

10分後の時こくは何時何分ですか。



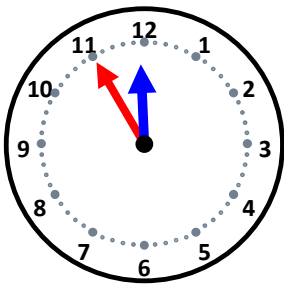
45分後の時こくは何時何分ですか。

15分後の時こくは何時何分ですか。



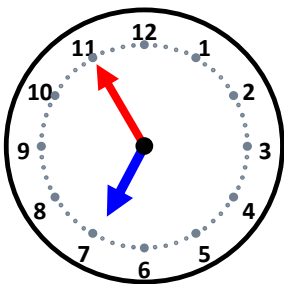
5分後の時こくは何時何分ですか。

10分後の時こくは何時何分ですか。



20分後の時こくは何時何分ですか。

55分後の時こくは何時何分ですか。



5分後の時こくは何時何分ですか。

15分後の時こくは何時何分ですか。