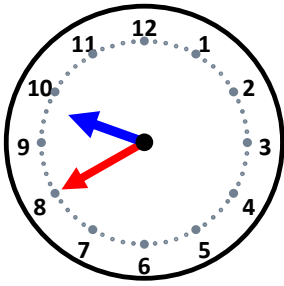


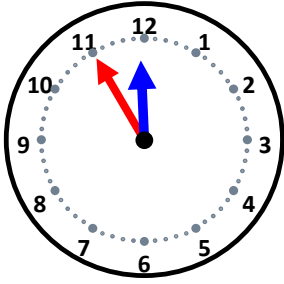
時こくと時間

なまえ _____



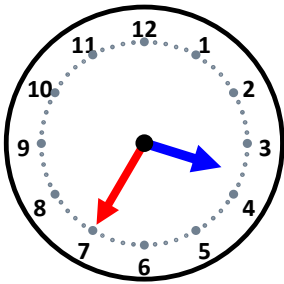
45分後の時こくは何時何分ですか。

25分後の時こくは何時何分ですか。



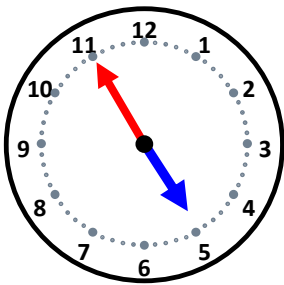
5分後の時こくは何時何分ですか。

40分後の時こくは何時何分ですか。



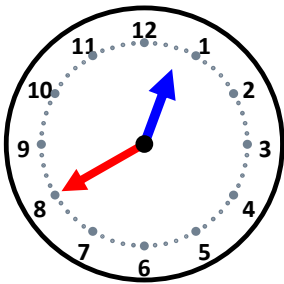
25分後の時こくは何時何分ですか。

45分後の時こくは何時何分ですか。



5分後の時こくは何時何分ですか。

30分後の時こくは何時何分ですか。



45分後の時こくは何時何分ですか。

30分後の時こくは何時何分ですか。