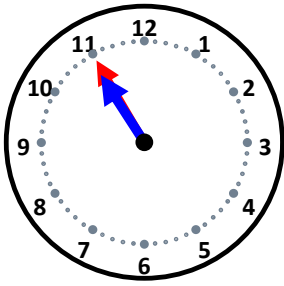


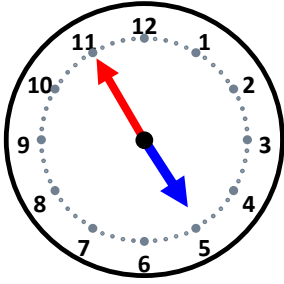
時こくと時間

なまえ _____



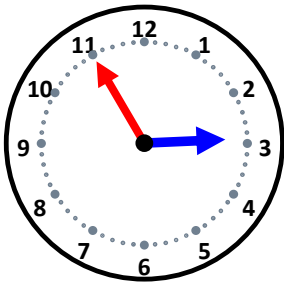
55分後の時こくは何時何分ですか。

30分後の時こくは何時何分ですか。



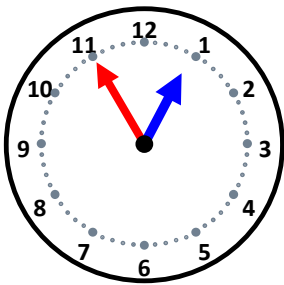
5分後の時こくは何時何分ですか。

45分後の時こくは何時何分ですか。



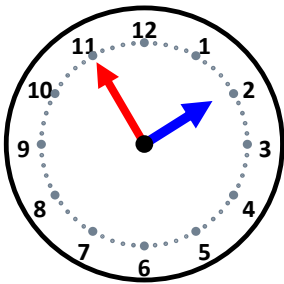
10分後の時こくは何時何分ですか。

45分後の時こくは何時何分ですか。



5分後の時こくは何時何分ですか。

35分後の時こくは何時何分ですか。



5分後の時こくは何時何分ですか。

20分後の時こくは何時何分ですか。