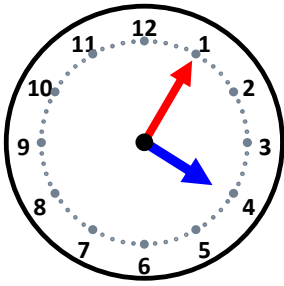


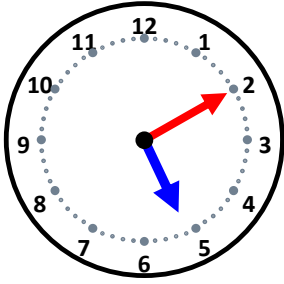
時こくと時間

なまえ _____



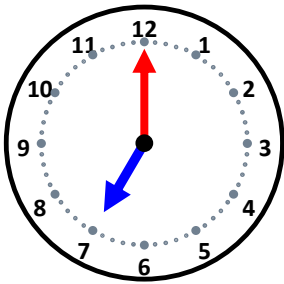
40分前の時こくは何時何分ですか。

55分前の時こくは何時何分ですか。



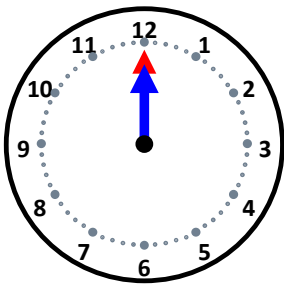
20分前の時こくは何時何分ですか。

35分前の時こくは何時何分ですか。



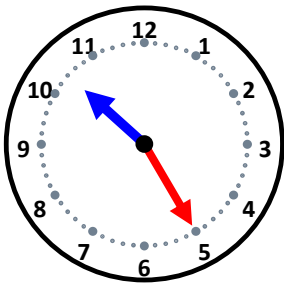
15分前の時こくは何時何分ですか。

10分前の時こくは何時何分ですか。



20分前の時こくは何時何分ですか。

45分前の時こくは何時何分ですか。



40分前の時こくは何時何分ですか。

45分前の時こくは何時何分ですか。