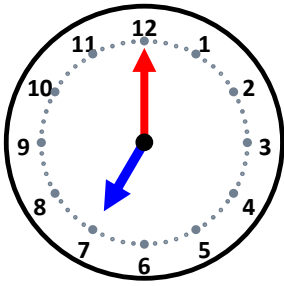


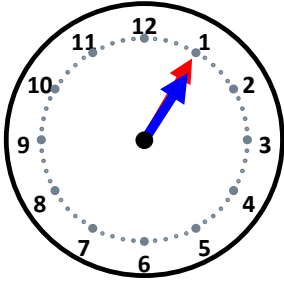
時こくと時間

なまえ _____



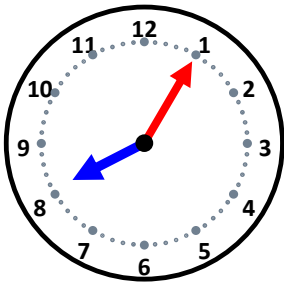
40分前の時こくは何時何分ですか。

5分前の時こくは何時何分ですか。



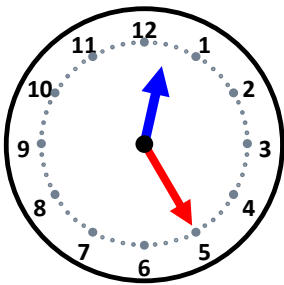
15分前の時こくは何時何分ですか。

30分前の時こくは何時何分ですか。



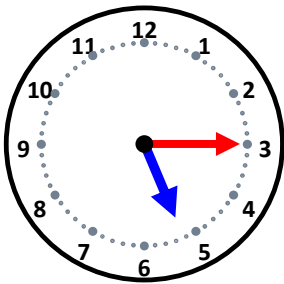
45分前の時こくは何時何分ですか。

40分前の時こくは何時何分ですか。



40分前の時こくは何時何分ですか。

35分前の時こくは何時何分ですか。



25分前の時こくは何時何分ですか。

40分前の時こくは何時何分ですか。