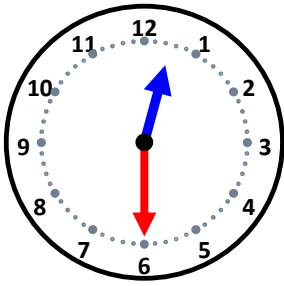


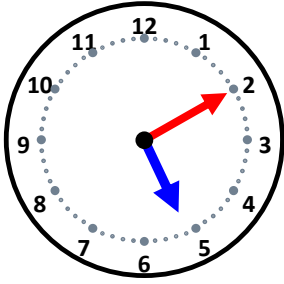
時こくと時間

なまえ _____



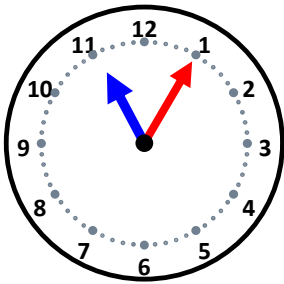
35分前の時こくは何時何分ですか。

55分前の時こくは何時何分ですか。



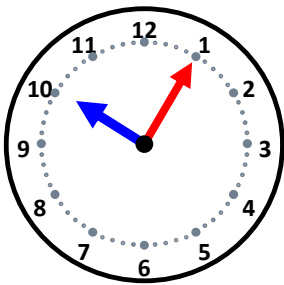
10分前の時こくは何時何分ですか。

20分前の時こくは何時何分ですか。



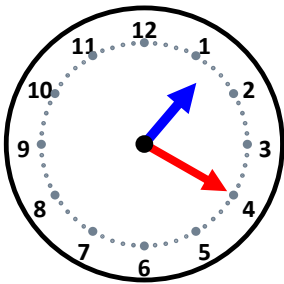
35分前の時こくは何時何分ですか。

10分前の時こくは何時何分ですか。



35分前の時こくは何時何分ですか。

25分前の時こくは何時何分ですか。



35分前の時こくは何時何分ですか。

30分前の時こくは何時何分ですか。